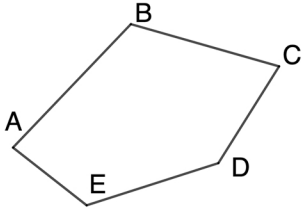
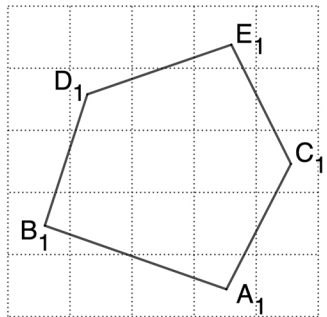
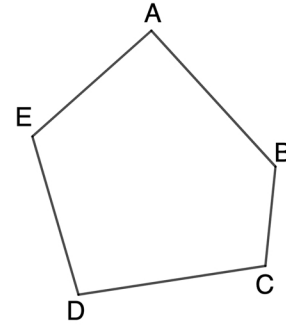


23-Semejanza

Dibuja una figura que sea el doble que esta usando perpendiculares



Dibuja una figura que sea el doble que esta usando radiación



Dibuja un polígono que sea el doble que este usando esta cuadrícula

Dibuja una figura que sea inversamente proporcional a esta a razón 2

